


MATERIALI PER APPROFONDIMENTO

CHE COS'E' LA LINEA DEL TEMPO?

ESERCIZIO 1

La linea del tempo aiuta a contare gli anni della storia degli uomini.

600 500 400 300 200 100 0 100 200 300 400 500 600



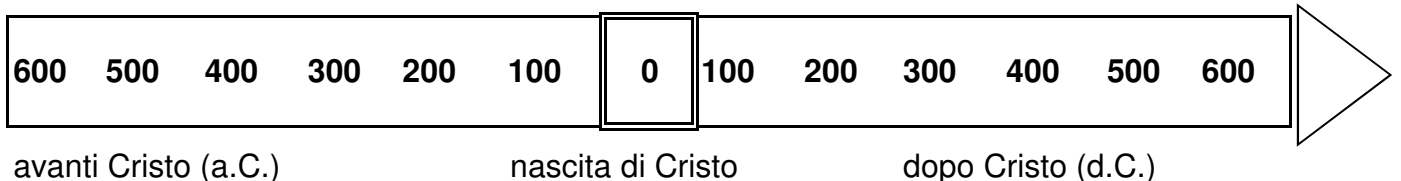
Che cosa noti?

Partendo dallo zero, numeri che, sulla linea, sono scritti prima dello zero vanno dal numero più **grande** al numero più **piccolo**.

Invece, i numeri dopo lo zero vanno dal più **piccolo** al più **grande**.

Punteggio: 1 a risposta / TOT. 4 PUNTI

ESERCIZIO 2



Lo zero indica la nascita di Gesù Cristo.

Gli anni dopo la nascita di Gesù Cristo si contano in modo crescente (dal più piccolo al più grande) e si dicono anni dopo Cristo (d.C.).

Gli anni prima della nascita di Gesù Cristo si contano in modo decrescente (dal più grande al più piccolo) e si dicono anni avanti Cristo (a.C.).

Noi siamo nell'anno **2012** dopo Cristo. Possiamo anche dire che Gesù è nato **2012** anni fa.

Punteggio: 1 a risposta / TOT. 5 PUNTI

ESERCIZIO 3

Collega la durata di tempo della prima colonna con il termine corrispondente della seconda colonna; poi riordina questi ultimi nella terza colonna, partendo dall'indicazione temporale più piccola fino alla più grande.

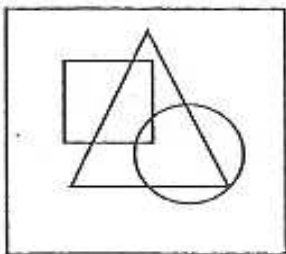
| | | |
|-------------------|--------------|---------|
| a) 100 anni | 1) millennio | c) - 9) |
| b) 12 mesi | 2) biennio | i) - 7) |
| c) 24 ore | 3) trimestre | e) - 8) |
| d) 2 anni | 4) secolo | b) - 6) |
| e) 28 - 31 giorni | 5) decennio | h) - 3) |
| f) 1000 anni | 6) anno | d) - 2) |
| g) 10 anni | 7) settimana | g) - 5) |
| h) 3 mesi | 8) mese | a) - 4) |
| i) 7 giorni | 9) giorno | f) - 1) |

Punteggio: 1 a risposta / TOT. 18 PUNTI (9 + 9)

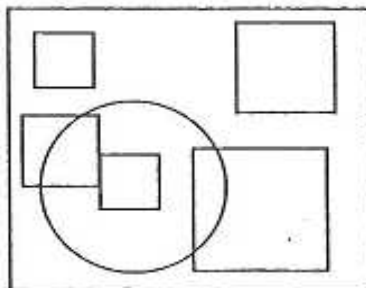
Relazioni Spaziali

ESERCIZIO 4

Osserva le figure ed indica quali delle seguenti affermazioni sono corrette.



a.



b.



c.

a. I triangolo si trova dentro il quadrato?

b. Indica con una crocetta il più piccolo dei quadrati posti davanti al cerchio.

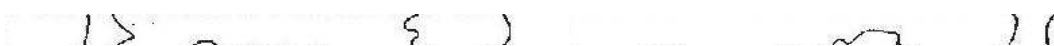
c. Colora in giallo la figura che è dietro alla casa.


Punteggio: 1 a risposta / TOT. 5 PUNTI

Orientamento Temporale

ESERCIZIO 5

Metti nella corretta successione temporale le seguenti vignette.






N. 2



N. 4



N. 1



N. 3

Punteggio: 1 a risposta / TOT. 4 PUNTI

ESERCIZIO 6

Indica con quale ordine vanno svolte le azioni elencate sotto, numerandole progressivamente.

A) Per preparare un panino:

- 1 si prende un panino
- 6 si chiude il panino
- 2 si prende il coltello
- 5 si spalma la cioccolata
- 3 si taglia il panino
- 4 si prende la cioccolata

Punteggio: 1 a risposta / TOT. 6 PUNTI

Per guardare la TV:

- 1 si accende l'apparecchio
- 3 si regolano il volume e la luminosità
- 2 si sceglie il canale

Punteggio: 1 a risposta / TOT. 3 PUNTI

Rapporti di Causa ed Effetto

ESERCIZIO 7

In ognuna delle coppie elencate, un elemento è causa e l'altro è effetto.

Indica quello che ti sembra essere la causa e quello che ti sembra essere l'effetto.

| | CAUSA | EFFETTO |
|---|---------------------------------|------------------|
| 1 | a) Invenzione | b) Miglioramento |
| | b. Miglioramento dei trasporti. | |
| 2 | a) Aumento | b) Diminuzione |
| | b. Diminuzione della fame. | |

Punteggio: 1 a risposta / TOT. 2 PUNTI